

ACD/ChemSketch. Режим Draw.

Контрольные задания

Задание 1. Изобразите мицеллу:

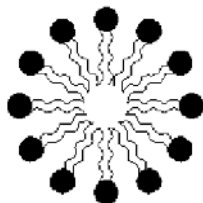
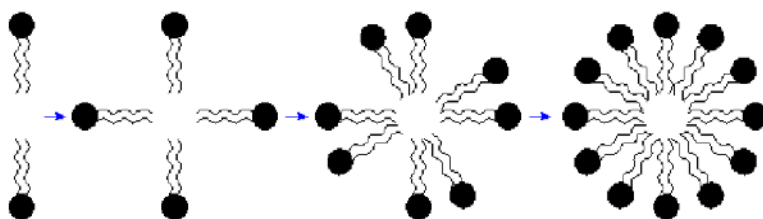
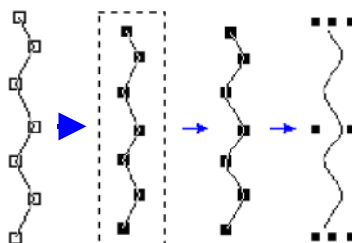
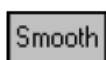
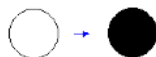


Схема работы:



Задание 2. Изобразите строение молекулы гидразина:




Схема работы:

Structure — набрать формулу,

Draw — дорисовать орбитали (использовать шаблон).

Задание 3. Изобразите следующий прибор для перегонки жидкостей, подпишите составные части:

